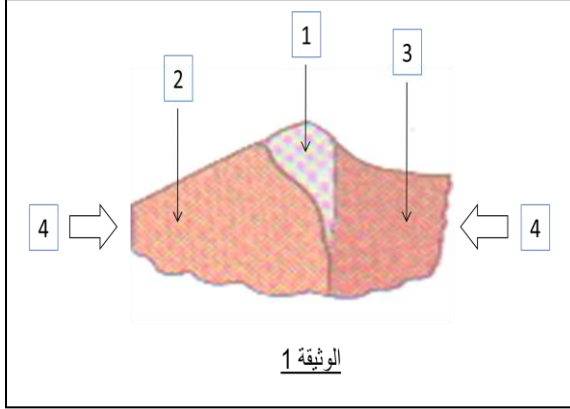


أجب عن الأسئلة التالية:


الجزء الأول:

التمرين الأول 6ن: يمثل الرسم التخطيطي المبين في الوثيقة (1) مرحلة من مراحل تشكل جبال الألب.



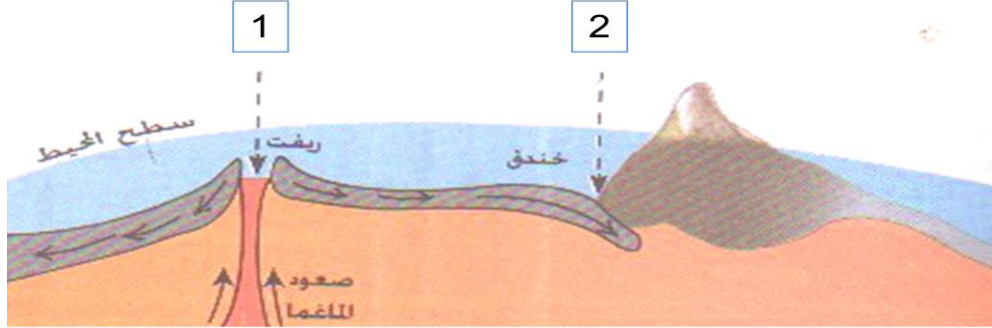
1. أكتب البيانات المرقمة في الوثيقة.
2. اشرح مراحل تشكل البنية 1.
3. ما هي عواقب تشكل البنية 1 ؟

التمرين الثاني 6ن: الصورة الموضحة في الوثيقة (2) المقابلة مأخوذة من منظر طبيعي.



1. اقترح عنوانا مناسباً للصورة.
2. وضح برسم كيف تم تشكل هذه البنية الجيولوجية.
3. قدم تعريفا لهذه البنية الجيولوجية.

تتسبب قوى الانضغاط الآتية من أعماق الأرض في ظهور بنايات جيولوجية مختلفة على سطح القشرة الأرضية كما تفسر ذلك الوثيقة (1) المقترحة عليك.



الوثيقة 1

بالاعتماد على الوثيقة المقدمة والمكتسبات القبلية أجب عما يلي:

1. ما هي الظاهرة الجيولوجية التي تظهر على مستوى المنطقة (1) من الوثيقة؟
2. ما هي الظاهرة الجيولوجية التي تحدث على مستوى المنطقة (2) من الوثيقة؟
3. رغم هذه الظواهر الجيولوجية والبنيات الجديدة التي تظهر على سطح الأرض إلا أنها تحافظ على نفس المساحة الجيولوجية.
- فسّر ذلك.

إنتهى

بالتوفيق