


الاختبار الثاني في مادة العلوم الطبيعية



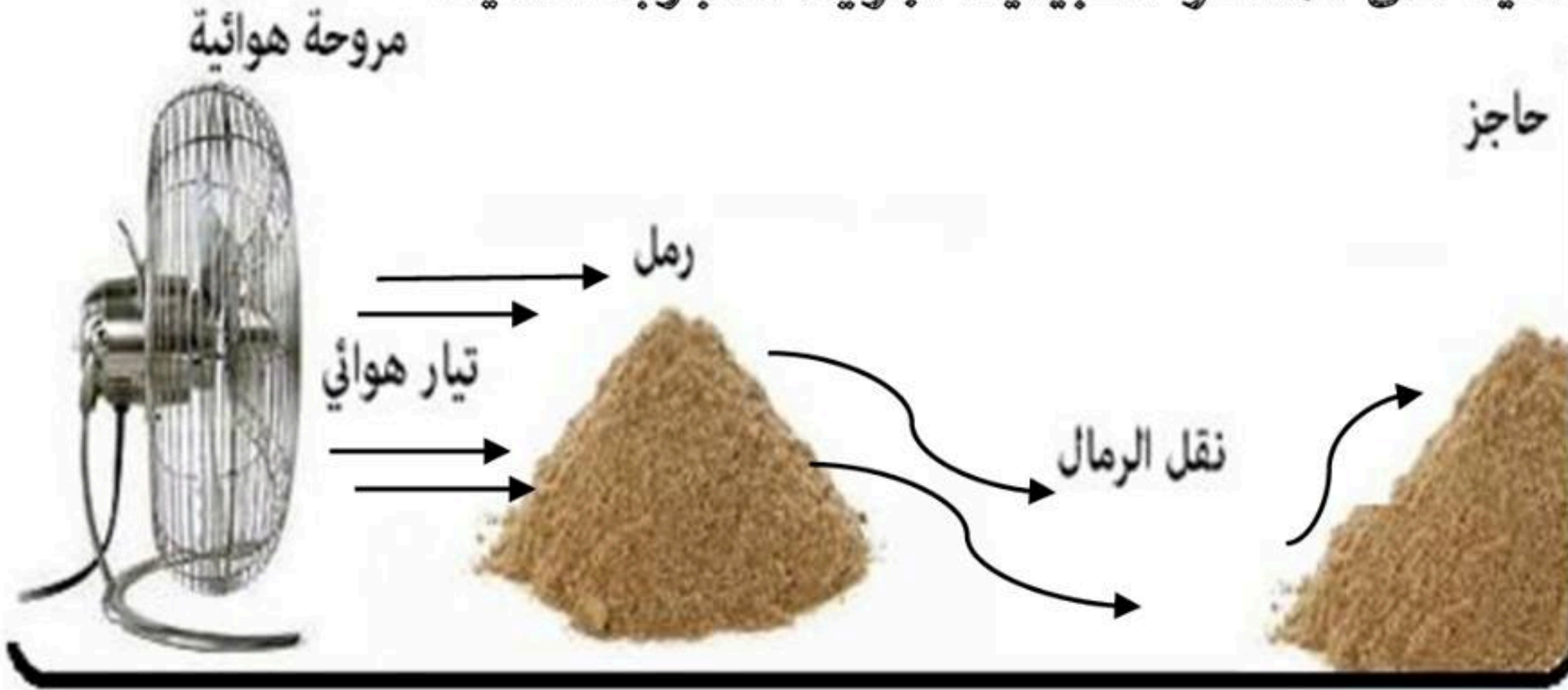
التمرين الأول: (06 نقاط)

يتميز سطح الكرة الأرضية بتنوع للمناظر الطبيعية.

- 1- اذكر العناصر المشكلة للمناظر الطبيعي.
- 2- حدد أصل تنوع المناظر الطبيعية.
- 3- لماذا تختلف المناظر الطبيعية من منطقة إلى أخرى؟

التمرين الثاني: (06 نقاط)

بهدف معرفة تأثير أحد العوامل المناخية على المناظر الطبيعية، أجريت التجربة التالية:



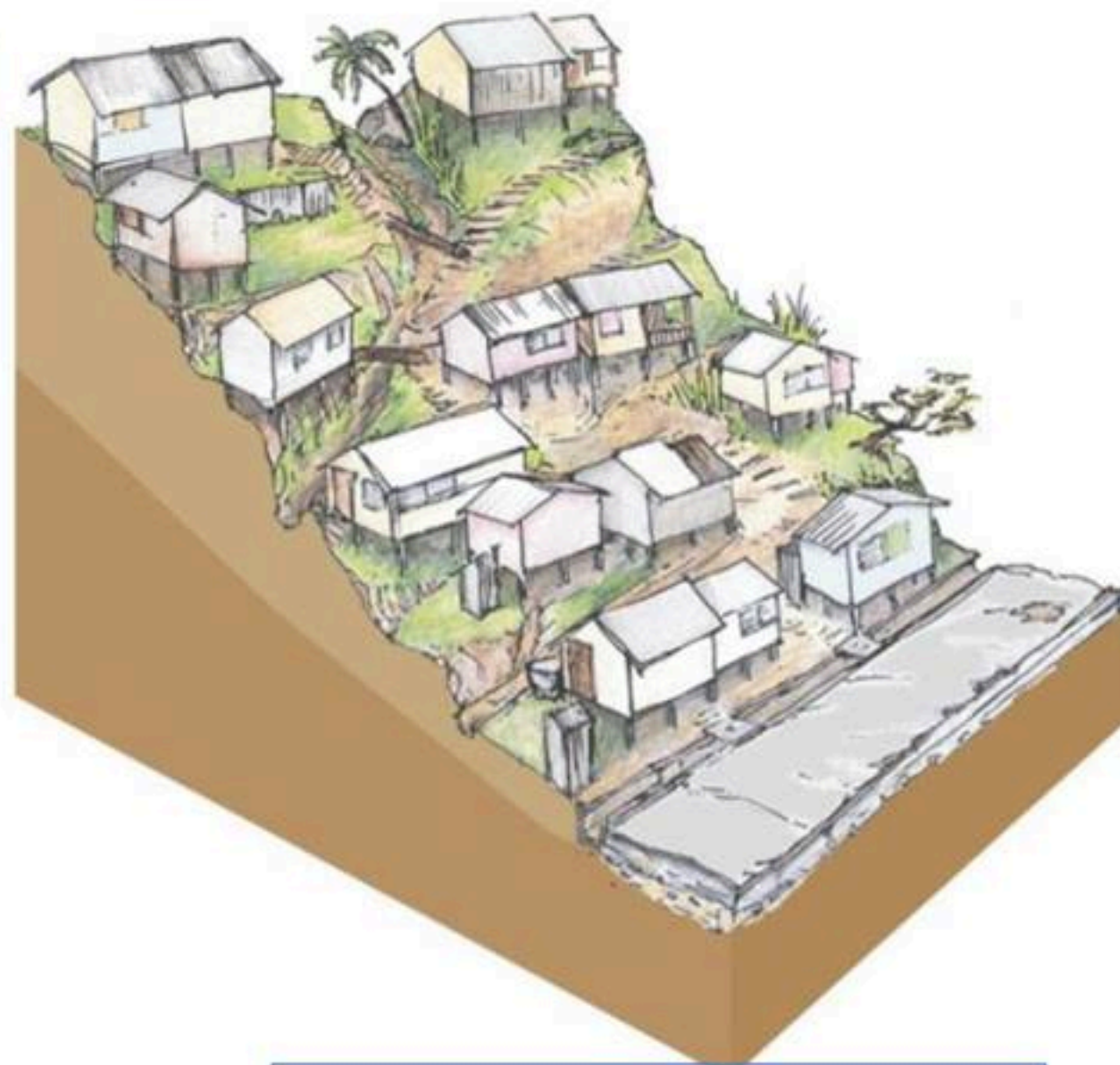
- 1- ما الذي تحاكيه التجربة؟
- 2- اشرح دور هذا العامل.
- 3- اذكر عوامل أخرى مؤثرة.

الوضعية الإدماجية: (08 نقاط)

نقلت إحدى الصحف الوطنية منذ أكثر من شهر خبرا عن انزلاق أرضي حدث بإحدى ولايات الوطن وقد خلف هذا وفاة فتاة في مقتبل العمر بعد أن أتى الانزلاق على المنزل العائلي.

بعض الخواص	المظهر	التماسك	الصلادة	المسامية	النفذية
الغضار	متجانس	قابل لتفتت	هش جدا	مسامي	نفوذ

السند 01: بعض خواص الغضار



السند 02: آثار الانزلاقات الأرضية

اعتمادا على معارفك والسندين:

- 1- اشرح سبب هذه الانزلاقات الأرضية.
- 2- بين علاقة الصخور بالمنظر الطبيعي.
- 3- قدم حلا لتفادي هذا المشكل مستقبلا.